

Вариант № 1313445

1.

Общие итоги миграции населения в Алтайском крае в 2006—2009 гг. (человека)

Годы	Численность постоянного населения на 1 января	Прибывшие, всего	Выбывшие, всего
2006	2 543 265	48 570	55 738
2007	2 523 308	48 103	53 894
2008	2 508 478	43 906	48 852
2009	2 496 776	43 028	44 222

Используя данные таблицы, определите миграционный прирост населения Алтайского края в 2009 г. Ответ запишите в виде числа.

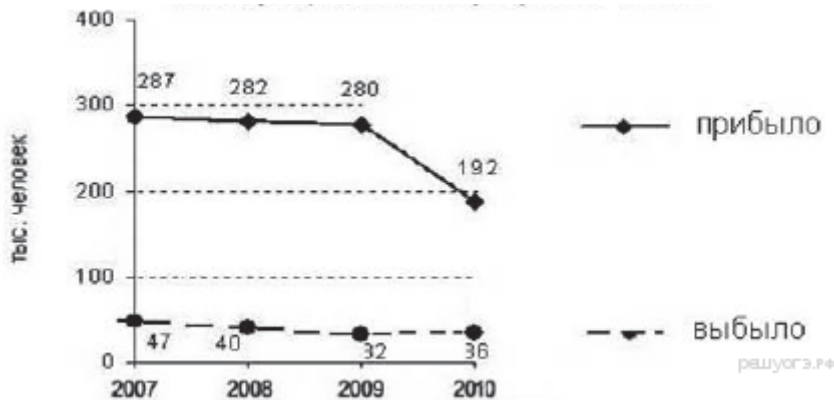
2. Определите величину миграционного прироста населения России в 2013 г. Ответ дайте в тысячах человек.



3. Используя данные графика, определите показатель миграционного прироста населения в России в 2011 г. Ответ запишите в виде числа.



4. Определите величину миграционного прироста населения России в 2010 г. Ответ запишите в виде числа.

Международная миграция в России

5. Определите естественный прирост населения в России в 2009 г. Ответ запишите в виде числа.

**Компоненты изменения общей численности населения России
в 2009–2012 гг. (тыс. человек)**

Годы	Среднегодовая численность населения	Общий прирост населения	Миграционный прирост населения
2009	142 785	96,3	345,2
2010	142 849	31,9	271,5
2011	142 961	191,0	320,1
2012	143 202	290,7	295,0

6. Определите густоту железнодорожной сети в Томской области в 2010 г. Полученный результат округлите до целого числа.

**Площадь территории и эксплуатационная длина железнодорожных
путей общего пользования отдельных регионов РФ**

Регион	Площадь территории, тыс. км ²	Эксплуатационная длина железнодорожных путей общего пользования, км			
		1995 г.	2000 г.	2005 г.	2010 г.
Омская область	141,1	888	775	752	752
Республика Бурятия	351,3	1199	1199	1227	1227
Курганская область	71,5	748	748	748	748
Томская область	314,4	344	346	346	346

7. Определите миграционный прирост населения Алтайского края в 2010 г. Ответ запишите в виде числа.

Изменение численности населения Алтайского края в 2007–2010 гг.

Показатель	2007 г.	2008 г.	2009 г.	2010 г.
Общий прирост населения за год, человек	–14 830	–11 702	–6062	–9803
Естественный прирост населения за год, человек	–9039	–6756	–4868	–5516

8. Определите густоту сети железных дорог в Республике Бурятия в 2000 г. Полученный результат округлите до целого числа.

Площадь территории и эксплуатационная длина железнодорожных путей общего пользования отдельных регионов РФ

Регион	Площадь территории, тыс. км ²	Эксплуатационная длина железнодорожных путей общего пользования, км			
		1995 г.	2000 г.	2005 г.	2010 г.
Республика Бурятия	351,3	1199	1199	1227	1227
Кемеровская область	95,7	1791	1728	1685	1685
Республика Хакасия	61,6	643	642	667	667
Забайкальский край	431,9	2427	2399	2399	2399

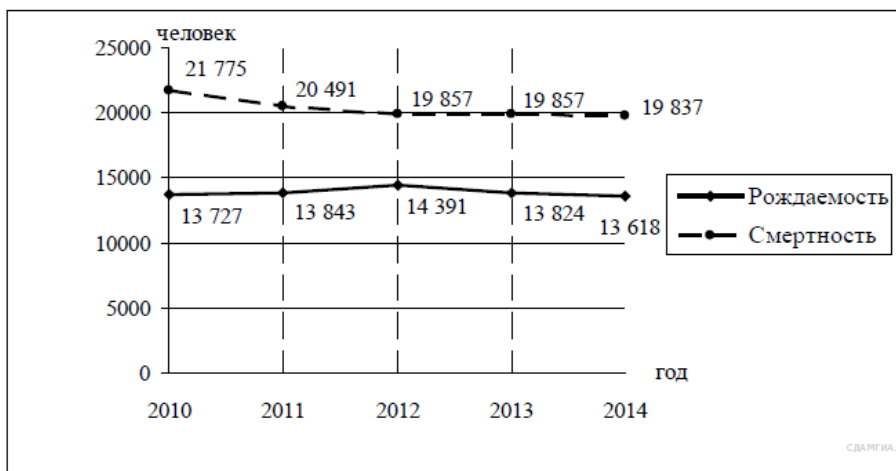
9. Определите миграционный прирост населения Астраханской области в 2010 г. Ответ запишите в виде числа.

Изменение численности населения Астраханской области в 2007–2010 гг.

Показатель	2007 г.	2008 г.	2009 г.	2010 г.
Общий прирост населения за год, человек	6747	4367	1872	–381
Естественный прирост населения за год, человек	–615	561	820	671

10. Определите естественный прирост населения в Брянской области в 2014 г. Ответ запишите в виде числа.

Воспроизводство населения в Брянской области в 2010–2014 гг. (человек)



11. Используя данные таблицы, определите среднюю плотность населения в Чувашской Республике в 2007 г. Ответ запишите цифрами (с точностью до 0,5).

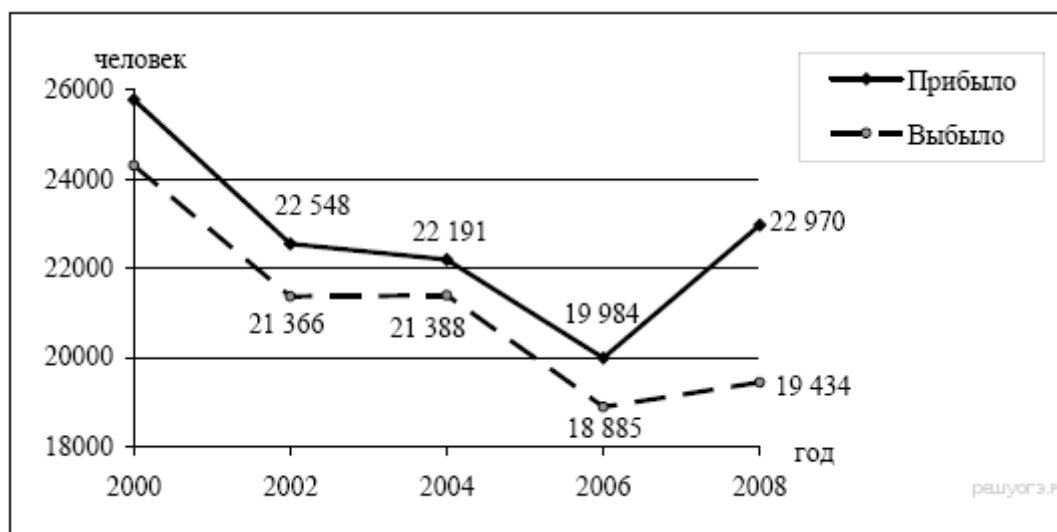
Площадь территории и численность населения отдельных регионов РФ

Регион	Площадь	Численность населения по годам, тыс. чел
--------	---------	--

	территории, тыс. км ²	всего			городского			сельского		
		1995	2000	2007	1995	2000	2007	1995	2000	2007
Республика Коми	172	1157	1058	975	874	798	737	283	260	238
Кабардино-Балкарская Республика	12	822	879	892	486	498	522	336	381	370
Владимирская область	29	1631	1576	1460	1300	1258	1134	331	318	326
Чувашская Республика	18	1346	1334	1287	803	803	737	543	531	550

12. Определите миграционный прирост населения Тверской области в 2008 г. Ответ запишите в виде числа.

Общие итоги миграции населения в Тверской области в 2000–2008 гг. (человек)



13. Используя данные таблицы, определите среднюю плотность населения в Ивановской области в 2007 г. Ответ запишите в виде числа (с точностью до 0,1).

Площадь территории и численность населения отдельных регионов РФ

Регион	Площадь территории, тыс. км ²	Численность населения по годам, тыс. чел								
		всего			городского			сельского		
		1995	2000	2007	1995	2000	2007	1995	2000	2007
Ивановская область	24	1260	1195	1088	1036	985	878	224	210	210
Республика Дагестан	50	2200	2443	2659	945	1040	1133	1255	1403	1526
Новосибирская область	178	2732	2725	2670	2021	2034	1986	711	691	655
Республика Коми	172	1157	1058	975	874	798	737	283	260	238

14. Используя данные таблицы 1, определите долю городского населения в общей численности населения в Республике Тыва в 2007 г. Ответ запишите в виде числа.

Площадь территории и численность населения отдельных регионов РФ

Регион	Площадь территории, тыс. км ²	Численность населения по годам, тыс. чел								
		всего			городского			сельского		
		1995	2000	2007	1995	2000	2007	1995	2000	2007
Ивановская область	24	1260	1195	1088	1036	985	878	224	209	210
Республика Тыва	171	304	306	310	148	153	158	156	153	152
Магаданская область	461	267	201	169	229	183	160	38	19	9
Ростовская область	101	4482	4454	4276	3042	3012	2857	1440	1443	1419

15. Используя данные графика, определите показатель миграционного прироста населения в России в 2009 г. Ответ запишите в виде числа.



16. Определите величину миграционного прироста населения России в 2013 г. Ответ дайте в тысячах человек.



17. Определите величину миграционного прироста населения России в 2013 г. Ответ дайте в тысячах человек.



18. Используя данные графика, определите миграционный прирост населения Российской Федерации в 2009 г. Ответ запишите в виде числа.



19. Определите густоту сети железных дорог в Республике Коми в 2017 г. Полученный результат округлите до целого числа.

Регион	Площадь территории, тыс. км ²	Эксплуатационная длина железнодорожных путей общего пользования, км		
		2010 г.	2013 г.	2017 г.
1) Свердловская область	194,3	3547	3523	3524
2) Ленинградская область	83,9	2462	2462	2550
3) Архангельская область	589,9	1767	1767	1767
4) Республика Коми	416,8	1690	1690	1690

20. Используя данные таблицы, определите, на сколько человек сократилась численность населения Республики Коми в 2011 г. Ответ запишите в виде числа.

Изменение численности населения некоторых регионов в 2011 г.

	Число родившихся,	Число умерших,	Миграционный прирост населения

	человек	человек	за год, чел.
Иркутская область	37 110	33 910	8022
Хабаровский край	17 255	19 509	6612
Республика Коми	11 720	11 065	10 033
Республика Саха (Якутия)	16 402	8892	9809